

ОТКРЫТЫЙ БАНК ЗАДАНИЙ
для формирования функциональной грамотности

МАТЕМАТИЧЕСКАЯ ГРАМОТНОСТЬ

5 класс

ЧАСТЬ 3

Комплексное задание «Команда лыжников» (2задания).

Прочитайте текст и выполните задания 1-2.

«Команда лыжников»



Тренер школьной команды лыжников для организации летних тренировок провёл опрос спортсменов, чтобы узнать, есть ли у них скейтборды и лыжероллеры. На вопрос ответили 12 человек. Результаты представлены в таблице 1.

Таблица 1

Наличие скейтборда и лыжероллеров у спортсменов

	1	2	3	4	5	6	7	8	9	10	11	12
скейтборд	–	+	+	+	–	+	+	+	–	+	–	+
лыжероллеры	+	+	–	+	+	–	+	–	+	–	+	–

Обозначения: + есть, – нет

1. На основе данных таблицы 1 заполните таблицу 2, которая показывает, сколько спортсменов имеют скейтборды и сколько спортсменов имеют лыжероллеры.

Таблица 2

Количество снаряжения у спортсменов

Снаряжение	Количество спортсменов
скейтборд	
лыжероллеры	

2. На основе данных таблицы 1 составлены следующие утверждения. Отметьте знаком ✓ верные.

- У каждого спортсмена есть и лыжероллеры, и скейтборд.
- Если у спортсмена есть скейтборд, то у него нет лыжероллеров.
- У всех спортсменов есть какое-то снаряжение для тренировок.
- У всех членов команды скейтбордов больше, чем лыжероллеров.
- Чтобы проводить тренировки на лыжероллерах, нужно ещё 5 комплектов.

Комплексное задание «Петергоф» (2 задания).

Прочитайте текст и выполните задания 1-2.

Петергоф

Москвич Пётр Петрович решил отправиться на два дня в Санкт-Петербург в гости к своему бывшему однокласснику. Он купил билет на поезд, который отправляется с Ленинградского вокзала в 15:00.



1. В какое время Петру Петровичу нужно выйти из дома, если:

- от дома до ближайшей станции метро идти 10 минут;
- на метро ехать 7 мин;
- от станции метро до железнодорожной платформы идти 20 минут;
- рекомендуется прибыть на вокзал за 30 минут до отправления поезда?

Запишите ответ и решение.

Ответ: _____

Решение: _____

2. Пётр Петрович и его одноклассник Иван Иванович решили отправиться в Большой Петергофский дворец. В музей с ними пошли жена Ивана Ивановича, которая является членом Международного совета музеев, а также двое их детей – шестиклассник и дошкольник.

Перед входом они увидели объявление о ценах на этот день:

Входной билет – 1000 р.

Льготное посещение:

- Лица, не достигшие 16-летнего возраста, оплачивают половину стоимости входного билета.

Бесплатное посещение:

- Дети дошкольного возраста;
- Члены международного совета музеев;
- Члены Организации объединенных наций по вопросам образования, науки и культуры;
- Лица, имеющие социальные льготы (например, ветераны войны и труда).

Иван Иванович решил оплатить билеты всей группе.

Докажите, что на все билеты Ивану Ивановичу потребуется менее 3000 р.

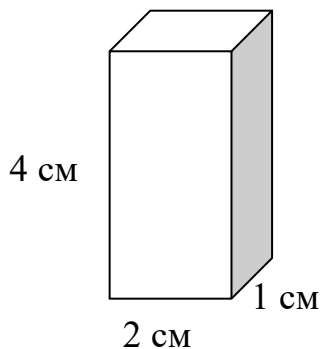
Доказательство: _____

Комплексное задание «Развёртки фигур» (2 задания).

Прочитайте текст и выполните задания 1-2.

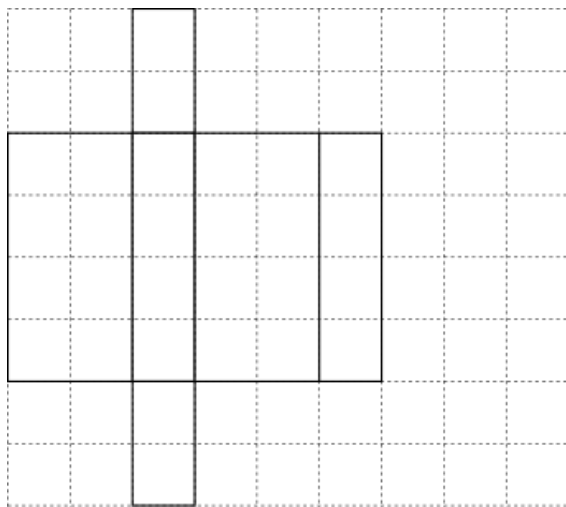
Развёртки фигур

На уроке математики пятиклассники изготавливали прямоугольные параллелепипеды из развёрток, которые они сделали дома.

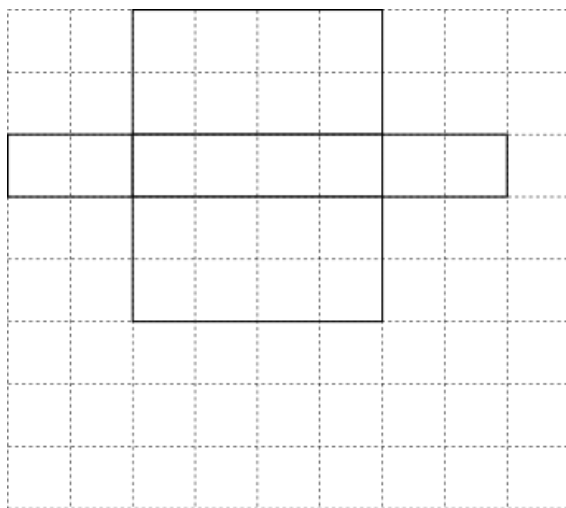


1. Двое ребят сделали правильные развёртки. Отметьте имена этих ребят ✓.
 Длина стороны клетки – 1 см.

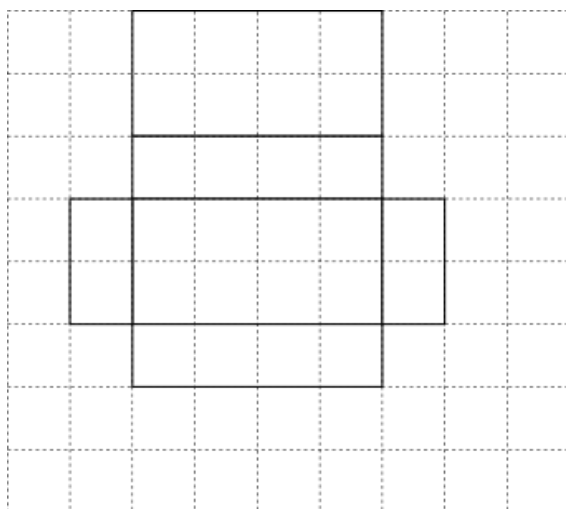
Василий



Егор



Илья



2. После уроков на занятии кружка «Геометрические формы» Илья решил сделать свою постройку из параллелепипеда, куба и конуса, как на рисунке «Башня».

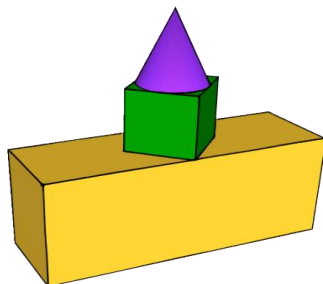

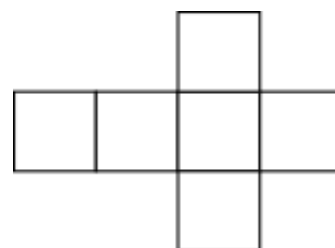
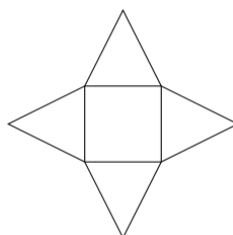



Рис. «Башня»

Отметьте на рисунке ниже все развёртки, которые ему понадобятся, знаком ✓.



Комплексное задание «Опрос пятиклассников» (2 задания).

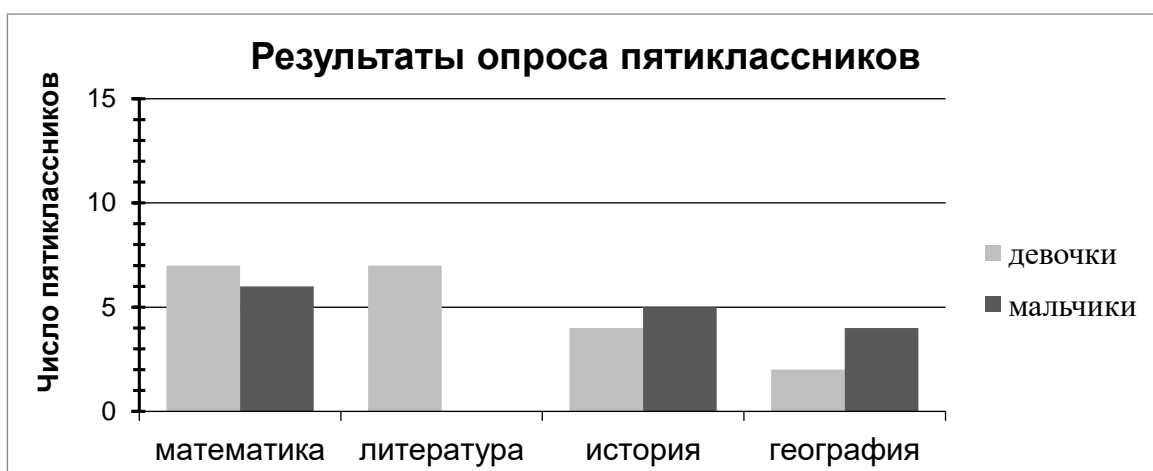
Прочитайте текст и выполните задания 1-2.

Опрос пятиклассников

В школе пятиклассников попросили ответить на вопрос: «Какой из учебных предметов тебе нравится больше других?» и указать только один из предложенных вариантов. На вопрос ответили 35 учеников.

Ниже на диаграмме 1 представлены результаты опроса.

Диаграмма 1



1. На основе данных диаграммы определите, какие из следующих утверждений являются верными, а какие – неверными.

Отметьте ✓ ответ в каждой строке.

Утверждения	Верно	Неверно
Литературу выбрали только девочки	<input type="checkbox"/>	<input type="checkbox"/>
Два мальчика выбрали географию	<input type="checkbox"/>	<input type="checkbox"/>
Историю выбрали 9 учащихся	<input type="checkbox"/>	<input type="checkbox"/>

2. На основании данных диаграммы 1 узнайте, сколько мальчиков и сколько девочек участвовали в опросе. Изобразите эти данные на Диаграмме 2.

Диаграмма 2

